

KÜSIMUSED 10.-12. KLASSILE

Nimi

Kool Klass

Geograafiaõpetaja

1. Selgita ja põhjenda järgmiste väidete sisu, lähtudes atmosfääri koostisest.

3p

a) Atmosfäär on Maa tekiks.

.....

b) Atmosfäär on Maa kaitsefilter.

.....

c) Atmosfäär on Maa kaitsekilp.

.....

2. Millise loodusnähtuse levikut on kaardil kujutatud?

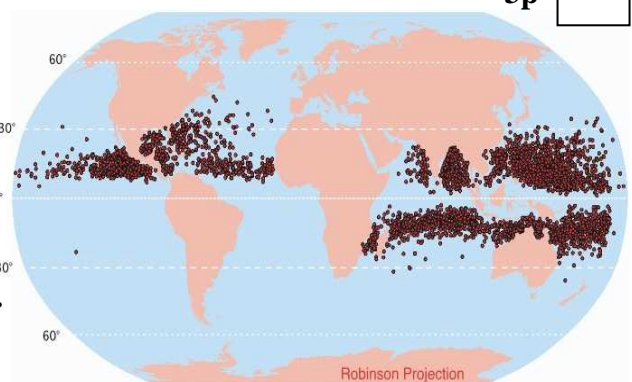
3p

Mis on selle loodusnähtuse peamiseks tekkepõhjuseks?

.....

Sellel loodusnähtusel on mitmeid „väiksemaid sugulasi”.

Nimeta need:

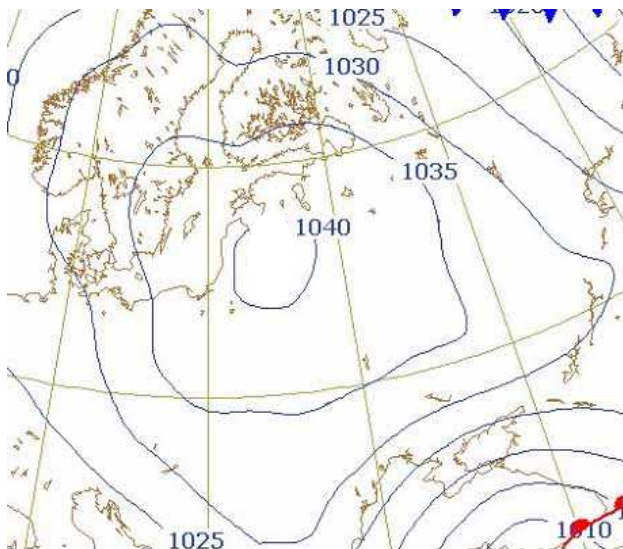


a)

b)

3. Iseloomusta ilmakaardi põhjal talvist ilma Eestis nelja ilmaelemendiga :

4p



a)

.....

b)

.....

c)

.....

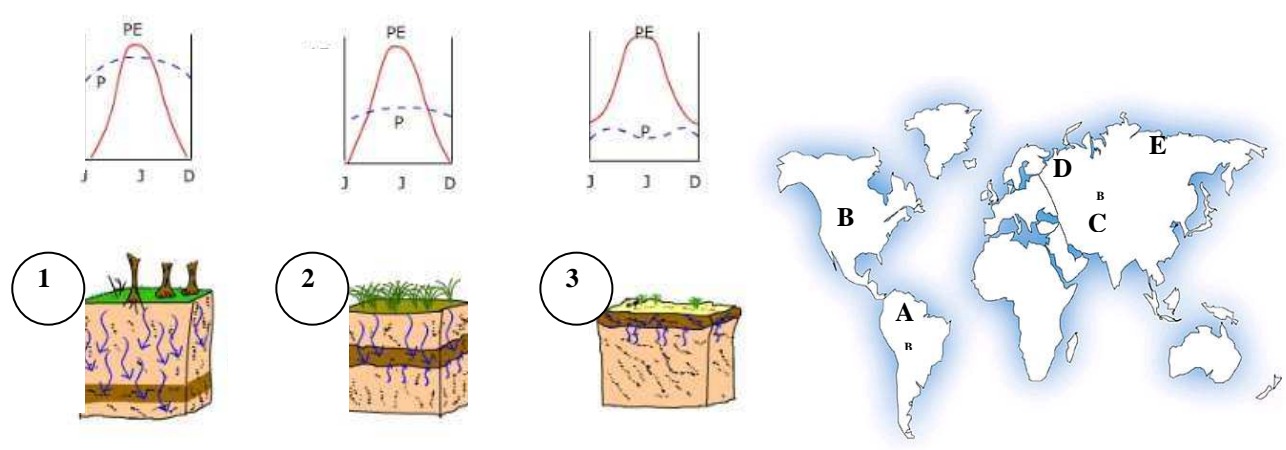
d)

.....

4. Graafikutel on kujutatud kahe peamise mulla teket mõjutava kliimateguri aastast käiku. Nende koosmõju tulemusena esinevaid mullatekkeprotsesse ja kujunenud mullaprofiile on näidatud pildidel vastavate graafikute all.

Nimeta, millist kliimategurit jooned graafikutel kujutavad: 1p
 _____ kujutab — — kujutab

Kirjuta mullaprofiilide alla mullatekkeprotsess ja täht kaardilt, kus vastav protsess esineb. 6p



Protsess:
 1..... 2 3.....
 Täht kaardil

Milline number tähistab kõige viljakamat mulda?, mullatüüp:3p

Selgita selle mullatüübi kujunemist põhjalikumalt. Kirjelda selgituses veel ühe mullatekketeguri mõju.

5. Rühmita loetelus nimetatud põllukultuurid ja pane rühmale sobiv pealkiri: 5p

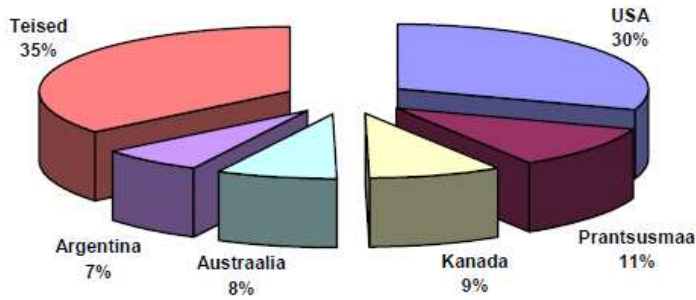
oliiv, mate, soja, hirss, raps, agaav, jamss, sorgo, bataat, kanep, maniokk, arahiis, džuuut, magun, lina.

6. Eesti veemured on Põhja-Eesti poole kreenis. Selgita selle ütluse sisu ja põhjusi. 4p

.....
 Põhjused: 1)
 2)
 3)

7. Diagrammil on kujutatud maailma peamised teravilja eksportivad riigid. Põhjenda, miks just need riigid on suurimad eksportijad? 3p

Suuremad teravilja eksportöörid 2006. aastal (%)



1)

2)

3)

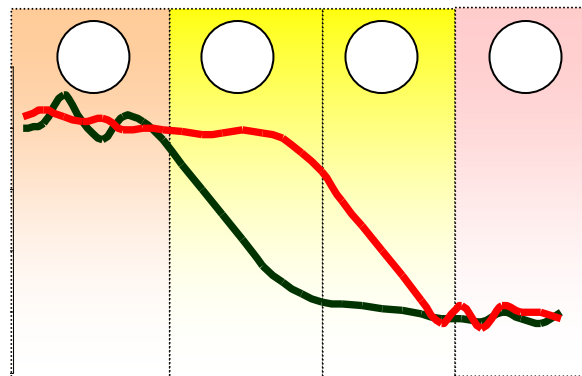
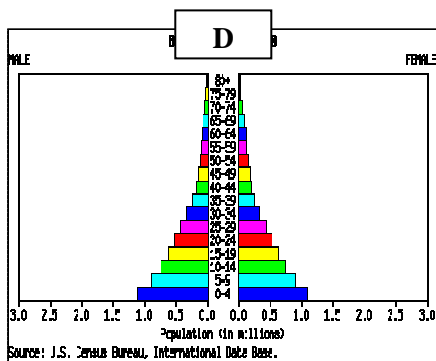
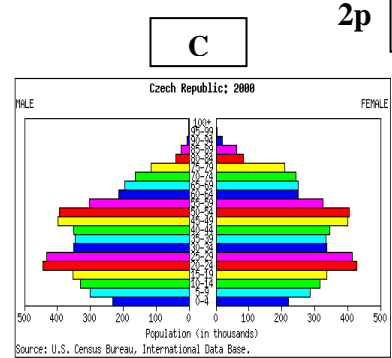
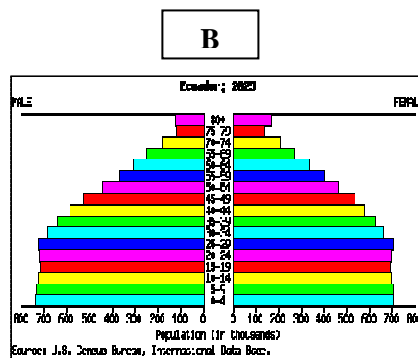
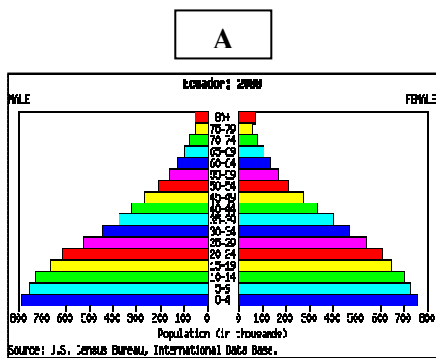
Millised on maailmas üha kasvava teravilja-nõudluse põhjused? 3p

1)

2)

3)

8. Paiguta rahvastikupüramiidi tähistav täht vastava etapi juurde demograafilise ülemineku graafikul.



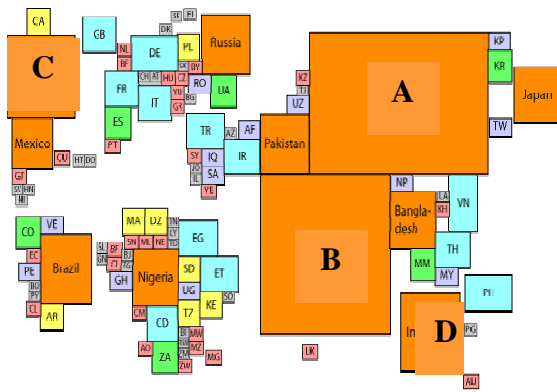
Põhjenda oma valikut:

A

B

C

D



9. Millise näitaja põhjal on maailma riike kujutatud?

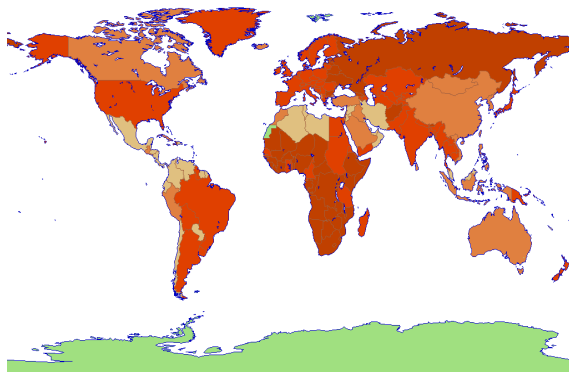
3p

Mis riigid on:

- A
- B
- C
- D

10. Kaardil on kujutatud ühte suhtelist iivet kujundavat näitajat.

3p



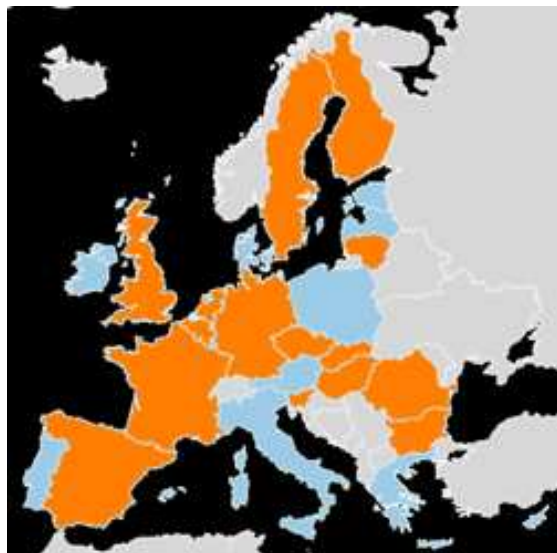
Mis tegurit kaart kujutab?

.....
 Miks on see näitaja kõrge nii Euroopas kui ka Aafrikas?

11. Mis energiaallika kasutamise levikut on kaardil kujutatud?

1p

.....



Kuidas on Eesti tulevikuplaanid antud valdkonnas seotud järgmiste kohanimedega? 3p

Ignalina:

Pakri:

Kasahstan:

12. Antarktisega on seotud mitmed maailmarekordid. Nimeta näitajad, mille puhul saab kasutada maailma mastaabis väljendit „kõige”? 3p

- 1)
- 2)
- 3)
- 4)
- 5)
- 6)

Kokku 54 punkti